














# 地図記号クイズプリント【記号→記号名】

解答

つぎのマークは何の地図記号でしょう？ 地図記号名を答えてみましょう

<b>建物 その他 構造物</b>	 独立建物(小)	 独立建物(大)	 中高層建物	 建物類似の構築物	 総描建物(小)	 総描建物(大)	 中高層建築街	 市役所	 町村役場
 官公署	 裁判所	 税務署	 森林管理署	 気象台	 消防署	 保健所	 警察署	 交番	 郵便局
 小・中学校	 高等学校	 高等専門学校	 短期大学	 大学	 病院	 博物館	 図書館	 神社	 寺院
 老人ホーム	 銀行	 フェリー	<b>植生</b>	 田	 畑	 桑畑	 茶畑	 果樹園	 その他の樹木畑
 広葉樹林	 針葉樹林	 竹林	 ヤシ科樹林	 ハイマツ地	 笹地	 荒地	<b>道路</b>	 真幅道路	 4車線以上道路
 2車線道路	 1車線道路	 軽車道	 徒歩道	 国道	 有料道路と料金所	 建設中の道路	 分離帯	 トンネル	 石段
<b>鉄道</b>	 JR線(単線)	 JR線(複線)	 JR線以外(単線)	 JR線以外(複線)	 貨物線(JR線以外)	 地下鉄および地下式鉄道	 路面電車	 特殊鉄道	 リフト等
 建設中又は運行休止中の鉄道(JR線)	 建設中又は運行休止中の鉄道(JR線以外)	 側線	 鉄道橋	 トンネル	 雪覆い等	<b>目標物</b>	 高塔	 記念碑	 煙突
 電波塔	 油井・ガス井	 灯台	 風車	 坑口	 水門	 水制	 防波堤等	 ダム	 せき
<b>特定地区</b>	 墓地	 工場	 自衛隊関係	 発電所等	 温泉	 噴火口・噴気口	 探鉱地	 採石場	 城跡
 重要港	 地方港	 漁港	 史跡・名勝・天然記念物	<b>陸部の地形</b>	 主曲線	 計曲線	 補助曲線	 凹地(大)	 凹地(小)
 雨裂	 岩崖	 岩(大)	 岩(小)	 れぎ地	 湿地	 滝(大)	 滝(小)	<b>行政界</b>	 都府県界
 北海道総合振興局・振興局界	 市区町村界	 所属界	<b>基準点</b>	 電子基準点	 三角点・地殻変動観測点	 水準点	 標高点	 水面標高	 水深